

نام : به نام خدا
 نام خانوادگی : **آزمون مداد کاغذی**
 کلاس : **ریاضی سوم دبستان**

تاریخ آزمون : ۱۴۰۱/۱۰/۱۴
 دبستان مائده

۱- با اضافه کردن ۴۲۳ به کدام عدد، حاصل جمع ۱۰۰۰ به دست می آید؟ (توضیح بده).

+ ۴۲۳ =



۲- به هر یک از عددهای زیر، ۱۳۰۰ تا اضافه کن و زیر آن بنویس.

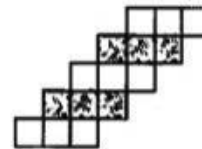



۶۴۰	۵۸	۹	۳۴۰۰

۳- یک فروشنده نوعی دفتر را به قیمت ۷۰۰ تومان می خرد و ۸۰۰ تومان می فروشد. این فروشنده با فروش هر دفتر، چند تومان سود می کند؟ (جدول را کامل کن.)
 الف) اگر ۹ دفتر بفروشد، چند تومان سود می کند؟
 ب) چند دفتر بفروشد تا با سود آن، یک دفتر بخرد؟

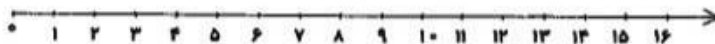
تعداد دفتر	۱	۲	۳	۴	۵	۶	۷	۸	۹	۱۰
سود	۱۰۰									

۴- با توجه به شکل، در جای خالی، عدد مناسب بنویس.



..... دسته تایی می شود مربع
 دسته تایی می شود مربع

۵- تساوی زیر را روی محور نشان بده.



$7 \times 2 = 2 \times 7$

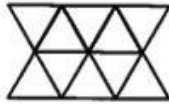
۶- هر کدام از عددهای زیر، بین کدام دو عدد قرار دارد؟ (مشخص کن.)

\leftarrow واحد مانده به عدد ۵ $\frac{1}{4} \rightarrow$  \leftarrow واحد بعد از عدد ۳ $\frac{3}{4} \rightarrow$

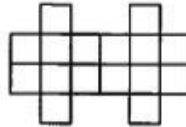
۷- در یک فروشگاه، ۲ بسته ۶ تایی مداد سیاه و ۳ بسته ۷ تایی مداد قرمز وجود دارد. این فروشگاه چند مداد سیاه و قرمز دارد؟




۸- به کمک خط تقارن، عبارت ضرب مربوط به هر شکل را بنویس.



..... \times =



..... \times =



۹- $\frac{4}{8}$ از شکل‌ها را با مداد قرمز و $\frac{1}{8}$ را با مداد سیاه رنگ بزن.


الف) چه کسری از شکل‌ها، رنگ نشده است؟

ب) چه کسری از شکل‌ها، رنگی است؟

۱۰- جرم یک قوطی روغن ۵ کیلوگرم است. اگر جرم ظرف آن ۳۵۰ گرم باشد، جرم روغن خالص چند کیلوگرم و چند گرم است؟

..... کیلوگرم و گرم

۱۱- در جای خالی، عدد مناسب بنویس.



الف) ساعت ۱۵ یعنی ساعت بعدازظهر.

ب) یک شبانه‌روز و ۳ ساعت یعنی ساعت.

۱۲- برای تساوی ضرب، جمع و برای تساوی جمع، ضرب بنویس.

$4 \times 7 =$

$6 + 6 + 6 + 6 + 6 =$